

CORRIGES

Programme de travail du jeudi 2 avril – CE2

CONJUGAISON – Le futur

- Sur ton cahier, recopie les exercices suivants.

Exercice 1 : Complète les phrases avec les pronoms personnels suivants : tu, ils, nous, il.

- | | |
|-------------------------------------|-------------------------------------|
| • visiteront la ville demain. | • visiterons la ville demain. |
| • arriveras dès que possible. | • arrivera dès que possible. |

Ils visiteront la ville demain.

Nous visiterons la ville demain.

Tu arriveras dès que possible.

Il arrivera dès que possible.

Exercice 2 : Réécris les phrases au futur avec les pronoms personnels correspondant.

Il jouera de la guitare l'année prochaine. → Tu

Tu rentreras demain de vacances. → Il

Elle se lèvera tôt le matin. → Tu te

Nous rangerons ces jouets ce soir. → Ils

Tu joueras de la guitare.

Il rentrera demain de vacances.













Tu te lèveras tôt demain.

Ils rangeront leurs jouets ce soir.

CALCUL MENTAL

Voici une équation à résoudre comme on en a déjà fait en classe. A toi de jouer !

Elle devrait être plus simple que celle de la semaine dernière...


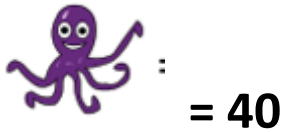
ÉQUATION		NIVEAU 4				
	+		+		=	180
	+		+		=	140
	+		-		=	30
 =	<input type="text"/>	 =	<input type="text"/>	 =	<input type="text"/>	

$$60 + 60 + 60 = 180$$

$$60 + 40 + 40 = 140$$

$$60 + 40 - 70 = 30$$

$$100 - 70 = 30$$



CALCUL – Nombres croisés

NOMBRES CROISÉS NIVEAU **1**

	1	2	3	4	5	6	7
A							
B							
C							
D							
E							
F							
G							

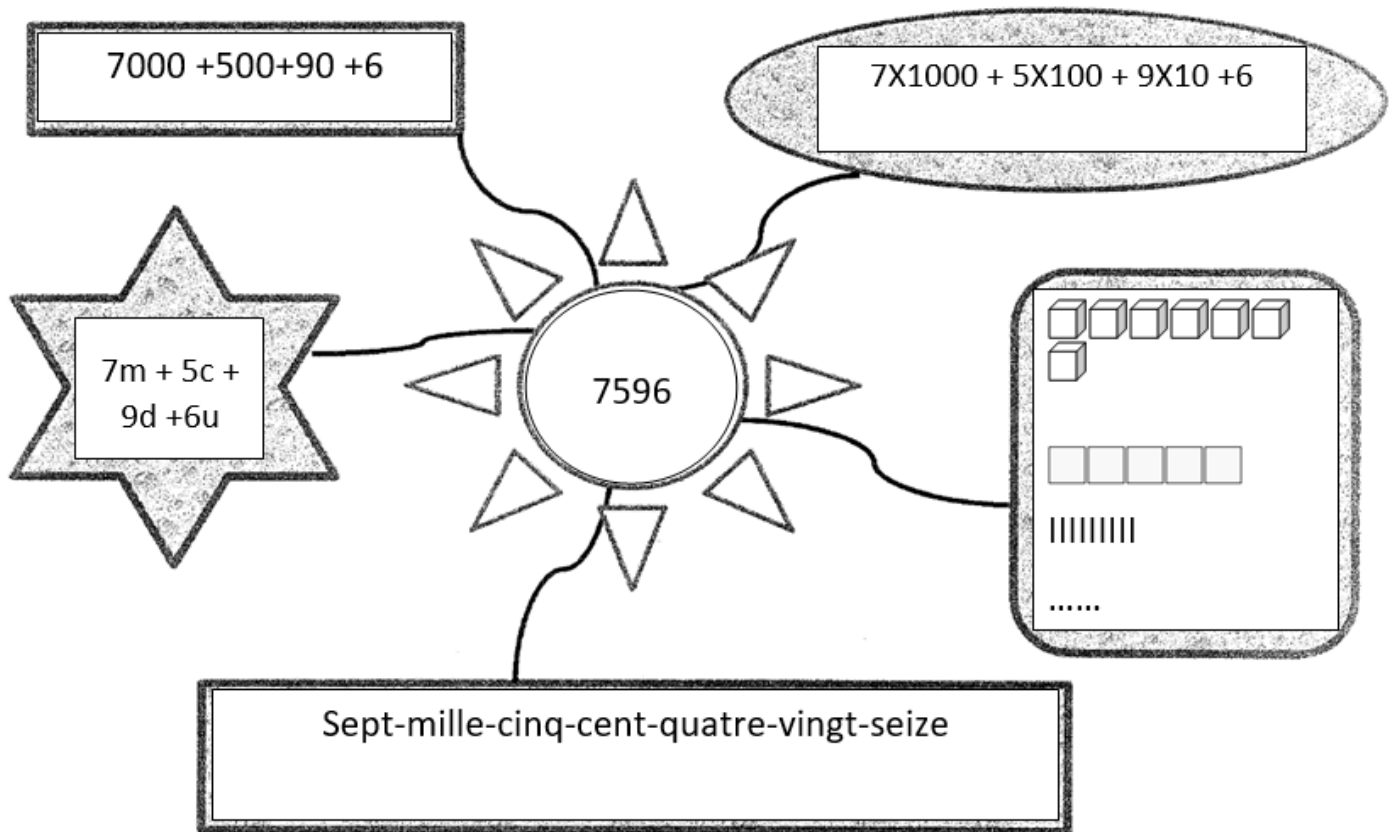
Horizontal		Vertical	
A	→241x2 →3x245	1	→4 x11 →999-37
B	→12x4 →500-44	2	→177x5 →822-254
C	→18x3 →513-267	3	→500-498 →558-509 →100-63
D	→3x3 →47x2 →2x4	4	→98-94 →312-271
E	→13x5 →39x4	5	→127+625 →249+288
F	→526-263 →77x4	6	→927-563 →200x3
G	→29x3 →264+436	7	→856-851 →34x2 →40x2

	1	2	3	4	5	6	7
A	4	8	2		7	3	5
B	4	8		4	5	6	
C		5	4		2	4	6
D	9		9	4			8
E	6	5		1	5	6	
F	2	6	3		3	0	8
G		8	7		7	0	0

	Horizontal (gauche à droite)				Vertical (haut en bas)		
A	$241 \times 2 = 482$	$3 \times 245 = 735$		1	$4 \times 11 = 44$	$999 - 237 = 735$	
B	$12 \times 4 = 48$	$500 - 44 = 456$		2	885	563	
C	$18 \times 3 = 54$	$513 - 267 = 246$		3	2	49	37
D	9	94	8	4	4	41	
E	65	156		5	752	537	
F	263	308		6	364	600	
G	87	700		7	5	68	80

NUMERATION – Le soleil du nombre

Et voilà le soleil du nombre ! C'est parti, à toi de compléter le soleil du nombre **7596** (relis l'exemple si tu ne te souviens plus).



PROBLEME

Lis ce problème puis réponds à la question en dessinant un schéma ou en faisant un calcul.

Zoé commence des économies pour acheter un vélo qui coûte 94€. Elle a déjà économisé 8€. Combien d'argent doit-elle encore économiser pour pouvoir acheter le vélo ?

Calcul ou schéma :

$$8 + 86 = 94$$

Ou

$$94 - 8 = 86$$

Phrase réponse : Elle doit encore économiser 86€.