


Faire les exercices suivants :

Attention, il faut colorier quand on entend les deux sons : cœur mais aussi cheveux.

Colorie lorsque tu entends les sons [ø] [œ].



1. Entoure les lettres eu œu eu œu .


eu en en ei eu œu en eu œu en en œu en en œu eu en
œu eu en en œu eu œu ei en eu en œu en eu

2. Entoure les lettres qui font les sons [ø] ou [œ].

bleu danseur deux œuf chanteur boeuf
peur vœux pleureux sœur heureuse cœur

3. Ecris les mots sous chaque dessin.

cœur - feu - neuf - œuf



Calcul :

4

Calculs :



$4 + 4 = 8$

$3 + 5 = 8$

$6 + 0 = 6$

$3 + 2 = 5$

$6 + 3 = 9$

$3 + 4 = 7$

$4 + 2 = 6$

$6 + 2 = 8$

$8 + 1 = 9$

5

Calculs :



$7 + 3 = 10$

$9 + 2 = 11$

$7 + 0 = 7$

$5 + 4 = 9$

$8 + 4 = 12$

$7 + 5 = 12$

$8 + 5 = 13$

$9 + 3 = 12$

$3 + 8 = 11$

1

Complète comme l'exemple : $17 + 4 = 21$



$15 + 4 = 19$

$20 + 6 = 26$

$21 + 3 = 24$

$25 + 2 = 27$

$20 + 7 = 27$

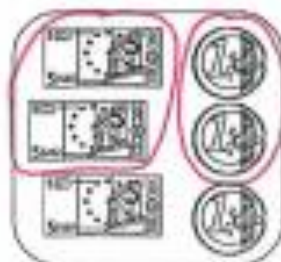
$22 + 8 = 30$

Calculer avec la monnaie :

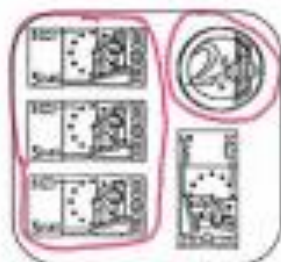
Colorie les pièces et/ou billets pour avoir la somme indiquée.



7 €



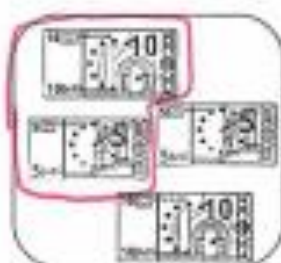
12 €



17 €



23 €



15 €



21 €



30 €



41 €



25 €

Géométrie : repérage sur un quadrillage.

1 Repérage sur quadrillage. Écris les coordonnées de chaque forme.



	1	2	3	4
A		☆		○
B	♥			
C			☾	

☆	A; 2
○	A; 4
♥	B; 1
☾	C; 3

2 Repérage sur quadrillage. Dessine les formes à leur place.



	1	2	3	4
A				○
B	☆			
C		♥		☾


☆	(B; 1)
○	(A; 4)
♥	(C; 2)
☾	(C; 4)

43 Lire et écrire les nombres de 60 à 69

✓ J'écris les nombres de 60 à 69 de différentes manières.

d	u
6	2

62
60+2
30+30+2
10+10+10+10+10+2
6d et 2u



Écris les nombres en chiffres.

68	60 + 8
63	soixante-trois
69	10 + 10 + 10 + 10 + 10 + 9
61	60 + 1
62	10 + 10 + 10 + 10 + 10 + 2
60	soixante
66	soixante-six
65	6 d et 5 u
67	30 + 30 + 7
64	4 + 60

Calcule.

$10 + 5 + 3 = 18$

$5 + 5 + 5 = 15$

$10 + 10 + 3 = 23$

2 Écris le nombre qui vient juste avant et le nombre qui vient juste après.

3 Écris les nombres à la bonne place.

69 64

64 < 69

61 65

61 < 65

69 63

63 < 69

59 67

67 > 59

58 46

58 > 46

65 56

65 > 56

4 Barre les billes en trop.

62

65

56

60

Complète pour faire 20 et dessine la flèche.

$10 + 5 + 2 + 3 = 20$

