


Correction du travail du mardi 24 mars.

Reproduis sur ton cahier, le modèle ci-après :



Recopie cette phrase en écriture cursive :

↳ Jérémy et Justine jouent au Japon.

Jérémy et Justine jouent au Japon

EDL :

❶ Relie chaque sujet à son verbe. Attention aux accords.

Je	•	•	aime lire.
Joséphine	•	•	aiment jardiner.
Mes grands-parents	•	•	adore les dauphins.
Nous	•	•	chantons tous les soirs.
Ma sœur	•	•	suis bronzé(e).

❷ Entoure la forme du verbe qui convient et recopie la phrase.

Anna ^{portons}
porte la valise.
^{portent}

Anna porte la valise

Anna et Jeanne ^{porte}
^{portez}
portent la valise.

Anna et Jeanne portent la valise

Ma sœur et moi ^{va}
^(nous) allons prendre l'avion.
^{vont}

Ma sœur et moi allons prendre l'avion.

❸ Complète chaque phrase avec un sujet qui convient, plusieurs réponses peuvent convenir.

Rose / Rose et sa maman / il / ils

..... Rose fait ses devoirs.

..... Ils partent en vacances aujourd'hui.

Rose et sa maman achètent des fruits au marché.

Il plante des bulbes de tulipe.

④ Dans chaque phrase, souligne en rouge le verbe et en bleu son sujet. Puis récris ce texte en mettant les sujets au pluriel.

Le chien aboie. → Les chiens aboient

Le chat miaule. → Les chats miaulent

Le mouton bêle. → Les moutons bêlent

⑤ Récris chaque phrase avec son nouveau sujet.

Sacha saute du plongeur de la piscine.

Sacha et Léo sautent du plongeur de la piscine.

Nous aimons les bonbons.

Marine aime les bonbons.

Mes copains jouent au football.

Mon copain joue au football.

Correction de l'exercice bonus - EDL.

Coucou,

Je vais bien. Ma nouvelle ville me plaît.

Ma nouvelle maîtresse s'appelle Amélie

Mon frère et moi pourrons venir à

ton anniversaire

Gros bisous, à bientôt

Isabelle.

Mathématiques :

Calculs en ligne :

3 Les additions . Calcule.



$$\begin{array}{lll} 400 + 32 = 432 & 30 + 320 = 350 & 90 + 300 = 390 \\ 700 + 25 = 725 & 120 + 53 = 173 & 710 + 30 = 740 \\ 604 + 50 = 654 & 405 + 60 = 465 & 501 + 48 = 549 \end{array}$$



4 Les additions . Calcule.



$$\begin{array}{lll} 900 + 53 = 953 & 9 + 720 = 729 & 52 + 731 = 783 \\ 300 + 78 = 378 & 30 + 537 = 567 & 60 + 519 = 579 \\ 402 + 5 = 407 & 604 + 84 = 688 & 39 + 410 = 449 \end{array}$$




Problème :

Énoncé : Marie achète 2 paquets de gâteaux. Dans chaque paquet , il y a 24 gâteaux.
Combien de gâteaux a-t-elle achetés en tout?



Je résous seul

Schéma



Calcul(s)

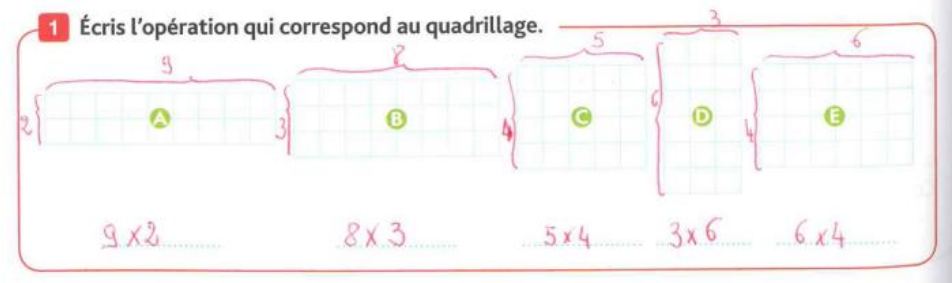
$$\begin{array}{l} 24 + 24 = 48 \\ \text{ou} \\ 24 \times 2 = 48 \end{array}$$

Phrase

réponse : Marie a acheté 48 gâteaux.

Ex fichier de maths P 88 et 89

1 Écris l'opération qui correspond au quadrillage.



2 Écris la multiplication qui correspond à chaque calcul.

a. $5 + 5 = 5 \times 2$

e. $4 + 4 + 4 + 4 + 4 + 4 + 4 = 4 \times 7$

b. $8 + 8 + 8 + 8 + 8 = 8 \times 5$

f. $10 + 10 + 10 = 10 \times 3$

c. $6 + 6 + 6 = 6 \times 3$

g. $2 + 2 + 2 + 2 + 2 + 2 + 2 = 2 \times 7$

d. $9 + 9 = 9 \times 2$

h. $7 + 7 + 7 + 7 = 7 \times 4$

3 Entoure les collections qui correspondent aux opérations.

a. en bleu : 9×3 étoiles

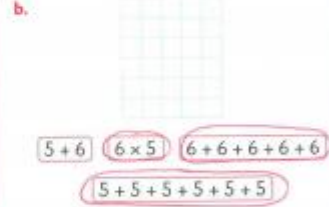
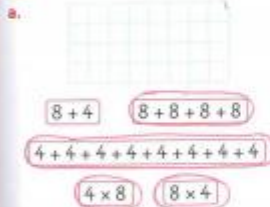
c. en bleu : 10×2 cœurs

b. en noir : 4×4 étoiles

d. en noir : 6×3 cœurs



4 Entoure toutes les étiquettes qui vont avec le quadrillage.



5 **PROBLÈME** Réponds à la question avec un schéma ou un calcul.

Le poissonnier prépare 5 brochettes de 7 crevettes. Combien a-t-il de crevettes ?

